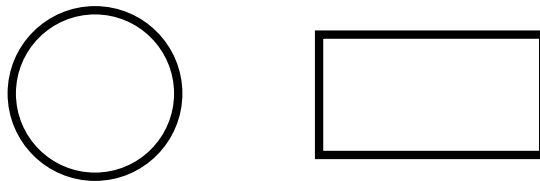


Associer une consigne à un assemblage de formes géométriques (**niveau 2**).



Entoure le numéro du message qui correspond au dessin.

Dessin A



1. Dessine un cercle puis un cercle à droite du rectangle.
2. Dessine un rectangle puis un cercle à gauche du rectangle.
3. Dessine un cercle puis un triangle à droite du cercle.

Dessin B




1. Dessine un triangle puis un carré à droite du rectangle.
2. Dessine un triangle puis un carré à droite du triangle.
3. Dessine un carré puis un triangle à gauche du carré.

Associer une consigne à un assemblage de formes géométriques (**niveau 2**).



Ecris le message qui correspond à chaque dessin.

Dessin C



Dessine

.....

.....

.....

Dessin D



Dessine

.....

.....

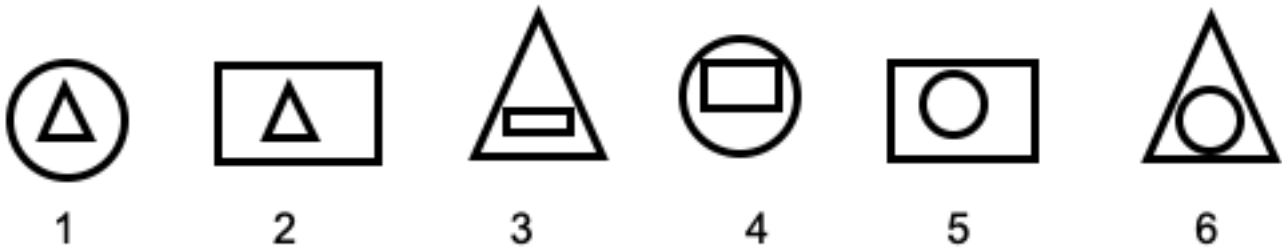
.....

Associer un assemblage de figures avec une consigne donnée (niveau 2).

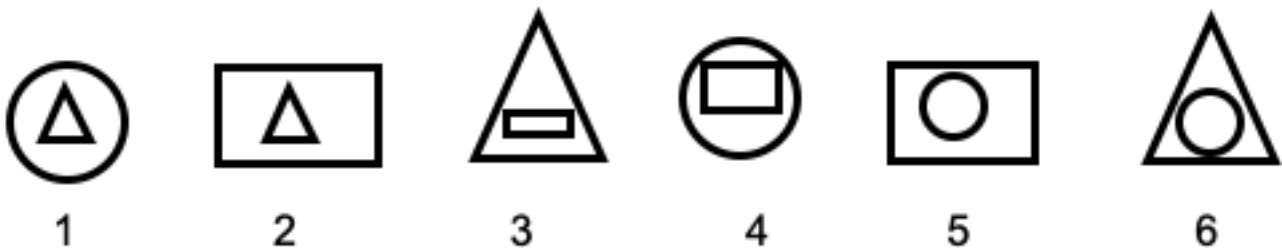


Entoure le
numéro du dessin
qui correspond au
message.

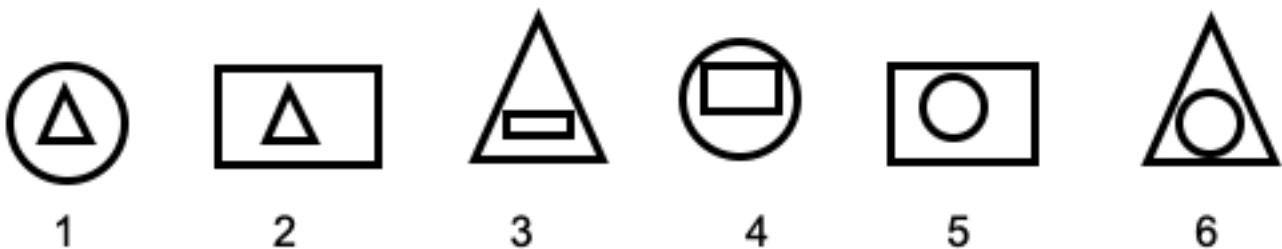
Message A : Dessine un rectangle puis un cercle à l'intérieur du rectangle.



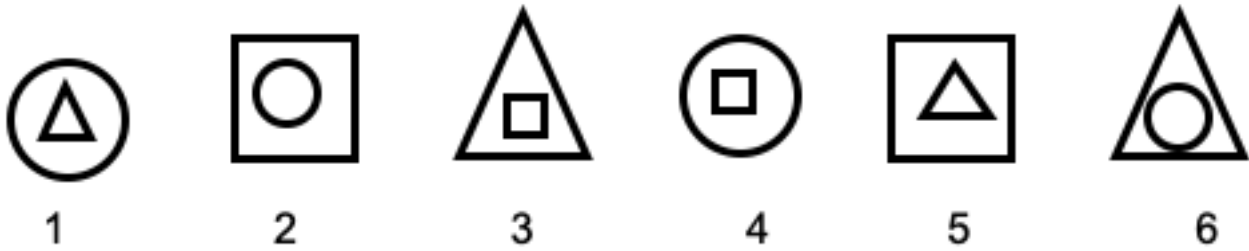
Message B : Dessine un cercle puis un triangle à l'intérieur du cercle.



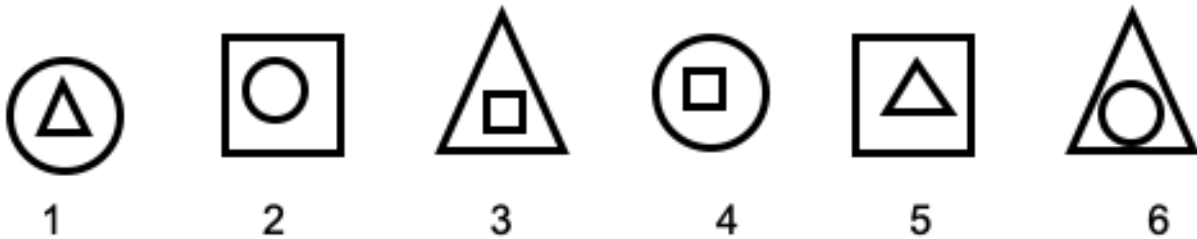
Message C : Dessine un triangle puis un cercle à l'intérieur du triangle.



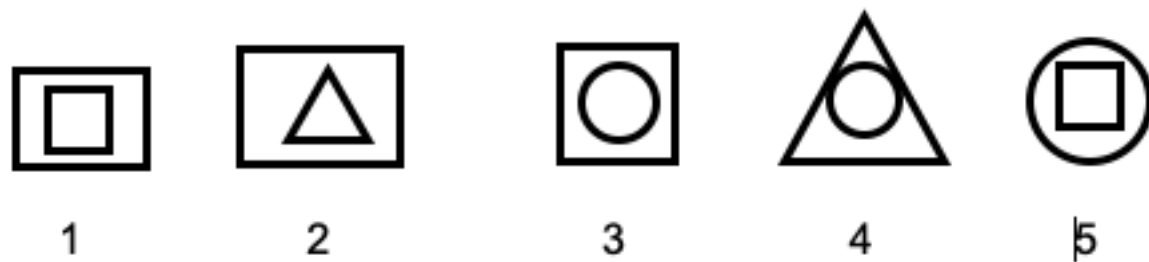
Message D : Dessine un carré puis un triangle à l'intérieur du carré.



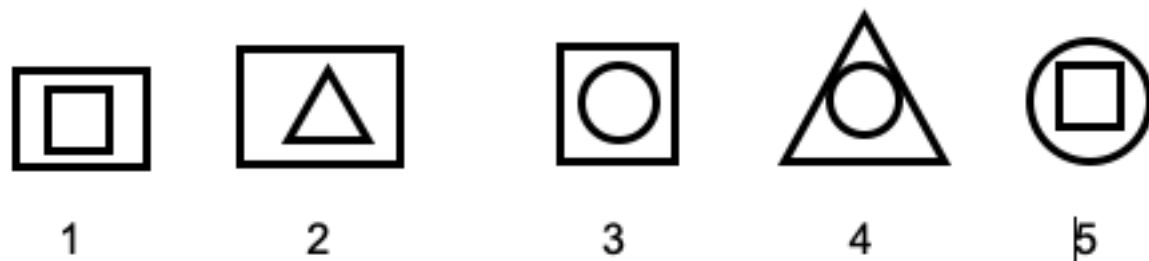
Message E : Dessine un triangle puis un carré à l'intérieur du triangle.



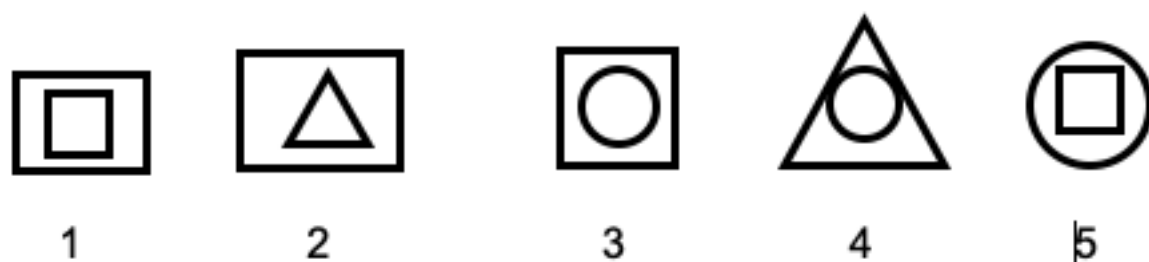
Message F : Dessine un carré puis un cercle à l'intérieur du carré.



Message G : Dessine un triangle puis un cercle à l'intérieur du triangle.



Message H : Dessine un rectangle puis un carré à l'intérieur du rectangle.




Associer une consigne à un assemblage de formes géométriques (**niveau 2**).



Ecris le message qui correspond à chaque dessin.

Dessin E



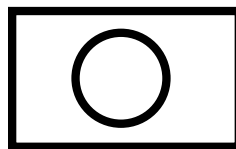
Dessine

.....

.....

.....

Dessin F



Dessine

.....

.....

.....

Correction.

Associer un assemblage de figures avec une consigne donnée.



Je vais t'aider en te donnant la correction des messages et des dessins

Message A	5
Message B	1
Message C	6

Message D	5
Message E	3
Message F	3
Message G	4
Message H	1

Dessin A	2
Dessin B	2
Dessin C	Dessine un rectangle puis un cercle à droite du rectangle. ou Dessine un cercle puis un rectangle à gauche du cercle.
Dessin D	Dessine un triangle puis un rectangle à droite du triangle. ou Dessine un rectangle puis un triangle à gauche du rectangle.
Dessin E	Dessine un cercle puis un triangle à l'intérieur du cercle.
Dessin F	Dessine un rectangle puis un cercle à l'intérieur du rectangle.